


¿CUÁL ES MÁS GRANDE?


¿Qué superficie tiene un área mayor?

En esta figura hay un rectángulo, un rombo y 4 triángulos. ¿Qué es más grande, el rectángulo, el rombo o los 4 triángulos juntos?

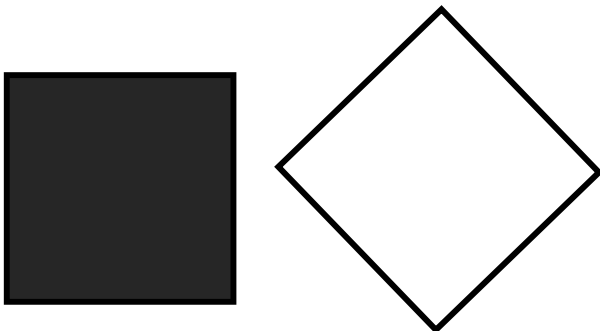


¿Y más pequeño?

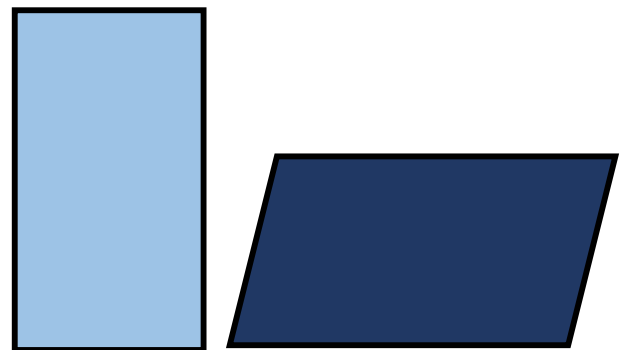
¿Y ahora?



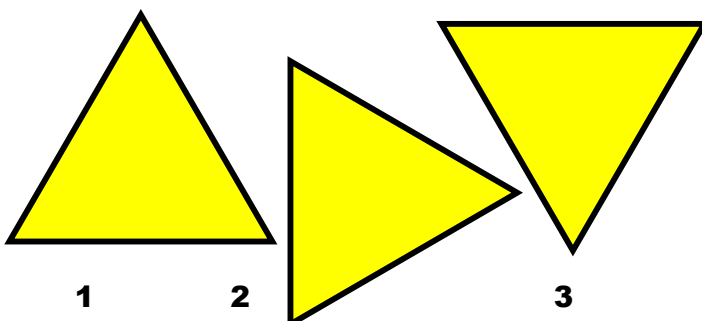
¿Qué cuadrilátero es mayor?



¿Cuál es mayor, el rectángulo o el romboide?



¿Qué triángulo es mayor?



¿Qué trapecio es mayor?

