

P.O.T.

NORMAS Y ACCESO A LAS PRUEBAS

- Se empezará a nombrar 15 minutos antes del comienzo de la prueba y se comenzará el examen a la hora prevista.
- Es obligatorio identificarse con DNI o documento similar que acredite la identidad (pasaporte, carnet de conducir). Este documento se quedará encima de la mesa todo el tiempo del examen
- Los miembros de la comisión informarán del código del examen una vez colocados todos los participantes

- Todos los dispositivos electrónicos y móviles deberán permanecer apagados y guardados
- A partir de los 15 minutos de comienzo del examen no se permite la entrada al mismo
- No está permitido abandonar el examen, ni el sitio establecido por la Comisión. Para cualquier duda, se procederá a levantar la mano.
- Ante la sospecha de intento de copia o uso de medios ilícitos, la Comisión bloqueará la sesión y dará por finalizada la prueba, siendo la calificación de la misma un 1

Las pruebas se realizarán en
aulas con equipos de
sobremesa

EN EL ESCRITORIO DE LOS
MONITORES HABRÁ UN ENLACE
DIRECTO A LA PÁGINA DE INICIO
DE LAS PRUEBAS.

Haciendo clic sobre el enlace podremos acceder a prueba.

Séneca exámenes online



Usuario

Clave

Mostrar clave

Código del examen

Aceptar

Debemos escribir el usuario y contraseña. El **código del examen** se indicará el mismo día de la realización de la prueba.

Séneca exámenes online



Usuario	<input type="text" value="Usuario"/>
Clave	<input type="password" value="Clave"/>
	<input type="checkbox"/> Mostrar clave
Código del examen	<input type="text" value="Código del examen"/>
	<input type="button" value="Aceptar"/>

Hay que distinguir las mayúsculas de las minúsculas. Seleccione la casilla “**mostrar clave**” para comprobar que está escrita correctamente.



Séneca exámenes online

Usuario

Clave

Mostrar clave

Código del examen

En caso de que aparezca algún error debemos avisar al miembro de la Comisión que está a cargo del aula

401 Unauthorized

Llamada incorrecta

Aparecerá este escritorio. Pulsamos **comenzar** cuando estemos listos. Desde ese momento comienza el examen.


Séneca exámenes online - Mozilla Firefox

Detalle novedad - C... x Séneca exámenes online x

https://www.juntadeandalucia.es/educacion/seneca/seneca/examenesonline/jsp/ValidarLogin.jsp

Buscar

Séneca exámenes online



Simulacro Pruebas Libres

Bien venido a la experiencia Piloto

Comenzar

IMPORTANTE

DURANTE LA REALIZACIÓN DEL EXAMEN SÓLO SE PUEDE TENER ABIERTA DICHA SESIÓN. NO SE PUEDEN ABRIR OTROS NAVEGADORES, NI HACER CONSULTAS EN INTERNET.

EN EL CASO DE QUE SE DETECTE QUE ALGUIEN TIENE ABIERTOS OTROS NAVEGADORES SE FINALIZARÁ EL EXAMEN DEL ALUMNO/A.

Del 8 al 28 de abril se puede realizar **una** simulación de la prueba.

El enlace estará disponible en **novedades** del [portal fp](#)

El código de examen es:

G3TC5S4



PRUEBAS DE OBTENCIÓN DE TÍTULOS DE TÉCNICO Y TÉCNICO SUPERIOR Convocatoria 2019

Calendarios de las pruebas

PRUEBAS DE OBTENCIÓN DE TÍTULO DE TÉCNICO/TECNICO SUPERIOR

- Simulacro exámenes online (POT)
- Escolarización
- Oferta formativa
- Orientame
- Clave iCAT

Tablón de anuncios

- Novedades
- Noticias
- Agenda



Contestadas 0/50

Contestadas de reserva 0/0

Por revisar 0/50

Tiempo restante

59:53

Pregunta 1 ¿Dónde se encuentra el manto terrestre?

- Entre el núcleo interno y el externo
- En la superficie
- En el interior
- Entre la corteza y el núcleo

Respuestas


Revisar más tarde

[Limpiar la respuesta](#)


[Anterior](#)

[Siguiente](#)

Contestadas 7/50



Contestadas de reserva 0/2



Por revisar 3/52



Tiempo restante

39:34

Pregunta 11 De las siguientes relaciones indica cual de ellas expresa proporcionalidad inversa

- La velocidad de un coche y el tiempo que tarda en recorrer una distancia
- Los kilogramos de manzanas que compro y el precio que pago por ellos
- El tiempo que estoy en la ducha y el agua que gasto
- La altura de una persona y su edad

Respuestas

Revisar más tarde

Limpiar la respuesta

Anterior

Siguiente

Índice de preguntas

Contestadas 7/50

Contestadas de reserva 0/2

Por revisar 3/52

Tiempo restante

39:18

10 registros por página

Buscar:

Nº de pregunta	Pregunta	Contestada	Para revisar
1	El número 0,27777... Escrito en forma de fracción es	✓	✗
2	Una distancia de 18000 cm equivale a	✓	✗
3	Ana tiene el doble de lápices que Juan y Antonio la tercera parte, en lenguaje algebraico el numero total de lápices de los tres es	✓	✗
4	¿Cuál de las siguientes sucesiones es una progresión aritmética?	✓	✗
5	Marta tiene en su armario 2 pantalones, uno azul y otro verde; y tres jerséis, un blanco un verde y otro azul. Si escoge unos pantalones y un jerséis para vestirse, ¿de cuántas maneras diferentes puede hacerlo?	✗	✓

Contestadas 22/50



Contestadas de reserva 0/2



Por revisar 8/52



Tiempo restante



31:34

Pregunta reserva
51

Si en un triángulo rectángulo la hipotenusa es a , y los catetos son b y c . El teorema de Pitágoras dice que:

$c^2 + a^2 = b^2$

$a = b + c$

$b^2 + c^2 = a^2$

$b^2 + a^2 = c^2$

Respuestas

Revisar más tarde

Limpiar la respuesta

Anterior

Siguiente

Contestadas 22/50

Pregunta reserva
52

Un tiempo de 1,3 horas equivale a

La prueba va a ser finalizada y no se podrá modificar, ¿está seguro de que desea continuar?

Aceptar Cancelar

Contestadas de reserva: 2/

Por revisar: 8/5

Tiempo restante

31:14

1 hora y 3 minutos

Revisar más tarde

Limpiar la respuesta

Al pulsar finalizar nos pide confirmación de nuestra acción

Séneca exámenes online



El examen ha finalizado

Se indicara que todo ha ido bien...información adicional

Contestadas 22/50



Contestadas de reserva 2/2



Tiempo
consumido

10:09

Desconectar

Esta información está
disponible en la web del IES
Federico Mayor Zaragoza

www.iesfmz.org

Gracias
por su atención