

PRUEBA ACCESO A CICLOS FORMATIVOS DE GRADO SUPERIOR

OPCIÓN A ECONOMÍA

DATOS DEL ASPIRANTE		CALIFICACIÓN PRUEBA
Apellidos:		Nombre:
D.N.I. o Pasaporte:	Fecha de nacimiento: / /	

Instrucciones:

- **Lee atentamente las preguntas antes de contestar.**
- **La puntuación máxima de cada pregunta está indicada en cada enunciado.**
- **Revisa cuidadosamente la prueba antes de entregarla.**
- **Podrán utilizarse calculadoras no programables. No se podrá utilizar ningún otro instrumento electrónico.**

1.- En un libro de texto de Economía General encontramos la siguiente definición de “ECONOMÍA”, que está incompleta. Tienes que completarla rellenando correctamente los huecos con los términos del recuadro:

La economía es la ciencia cuya finalidad es..... las necesidades económicas, tanto individuales comode una sociedad con bienes yobtenidos a partir de recursosy susceptibles de diversos.....

Esta labor se realiza a través de actividades de producción,y distribución desarrolladas con la máxima por loseconómicos.

Laes el principal problema al que se enfrenta la economía ya que las necesidades sony los recursos son escasos, por lo cual surge la necesidad de....., dando lugar al concepto de coste de.....

agentes	satisfacer	colectivas	ilimitadas	oportunidad	servicios
elegir	consumo	limitados	usos	eficiencia	escasez

(2 puntos)

2.- La empresa POLAR S.L. con domicilio social en el Polígono Industrial Norte de Málaga se dedica a la distribución de material de papelería. Está funcionando desde el 1 de Enero de 2007, fecha de su inscripción en el Registro Mercantil de la provincia. Está formada por 3 socios y cada uno de ellos es propietario de participaciones por un valor de 3.000 €

El 31 de Diciembre el administrador procede al cierre del ejercicio y cuenta con la siguiente información:

- ✓ La sociedad es propietaria de una furgoneta adquirida a principios de año por un importe de 30.000 €. Este primer año se estima su amortización en un 10 %.
- ✓ La empresa tiene facturas pendientes de cobro por un importe de 20.000 €
- ✓ La furgoneta anterior se financió en un 80 % mediante un préstamo a 5 años con una entidad financiera. Este año se han pagado cuotas por un total de 5.000 €de los cuales 500 €corresponden al pago de intereses.
- ✓ La empresa ha tenido un gasto en suministros corrientes durante el año de 1.000 €, de los cuales un recibo de 100 €de Endesa está pendiente de pago por un error en la tramitación.
- ✓ El saldo de la c/c que tiene abierta en Cajasol es de 2.500 €
- ✓ Las existencias que tiene en su almacén se valoran según el criterio del p.m.p y ascienden a 30.000 €.
- ✓ Tienen facturas pendientes de pago por un importe de 3.000 €
- ✓ En la liquidación del último trimestre del IVA resultó un saldo negativo (cuotas de IVA soportado – cuotas de IVA repercutido) de 400 €



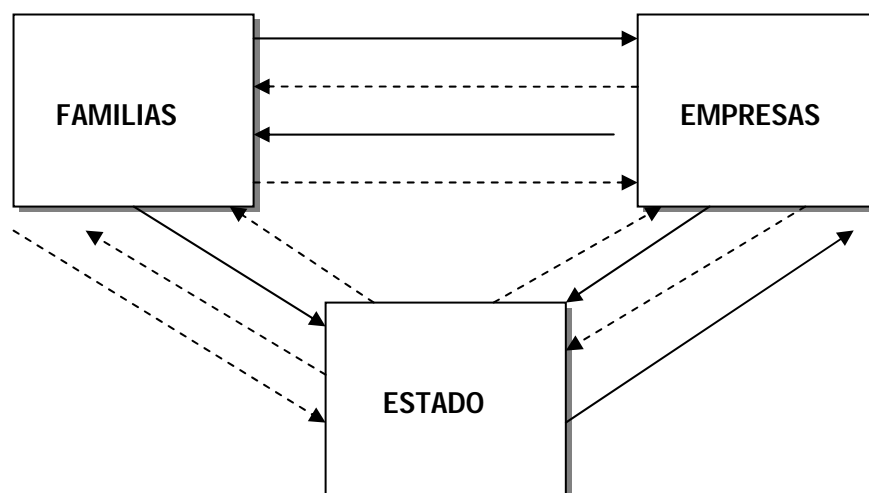
- ✓ El Beneficio antes de impuestos obtenido por la empresa en este primer año de vida ha sido de 60.000 €
- ✓ Adquirió el mobiliario de oficina y almacén necesario al iniciar su funcionamiento por un total de 8.000 €. Este año no ha procedido a su amortización.

Teniendo en cuenta los hechos contables descritos, indica el valor que corresponde a cada uno de los siguientes elementos patrimoniales:

AMORTIZACIÓN ACUMULADA	ELEMENTOS DE TRANSPORTE	PROVEEDORES PRESTACIÓN SERVICIOS	POR DE	DEUDAS CON ENTIDADES DE CRÉDITO A L/P
HACIENDA ACREEDORA	PCA PÉRDIDAS Y GANANCIAS.	EXISTENCIAS MERCADERÍAS	DE	CAPITAL SOCIAL
MOBILIARIO	PROVEEDORES	BANCOS C/C		CLIENTES

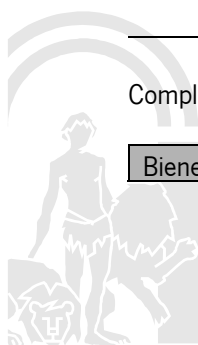
(4 puntos)

3.- Las principales relaciones que se establecen entre los agentes económicos en una economía mixta se pueden recoger en un esquema que muestra el “flujo circular de la renta”



Completa el esquema del “flujo circular de la renta” utilizando los siguientes elementos:

Bienes y servicios	Precio de bienes y servicios	Factores de producción
--------------------	------------------------------	------------------------



Impuestos	Remuneración de factores de producción	Transferencias corrientes
-----------	--	---------------------------

Recuerda que un mismo elemento puede aparecer en más de una relación entre agentes económicos y que las flechas con líneas continuas representan flujos reales y las flechas con líneas discontinuas representan flujos monetarios.

(2 puntos)

4.- A las empresas consideradas medianas y pequeñas según el número de trabajadores y el volumen de facturación se las denomina PYMES. Este grupo de empresas presenta una serie de rasgos característicos en su funcionamiento, su gestión y su organización.

Indica cuáles de las siguientes características corresponden a las PYMES y en su caso si se considera una ventaja o un inconveniente.

V: ventaja I: inconveniente (Recuerda que algunas no son características de las PYMES)

	El empresario no tiene una formación académica adecuada.
	Tiene fácil acceso a los mercados financieros
	La tecnología utilizada en muchas ocasiones se encuentra obsoleta.
	Gran facilidad de comunicación entre el personal de la empresa
	Poca conflictividad laboral
	Gran flexibilidad en la toma de decisiones
	Cuenta con los profesionales más cualificados
	Aprovecha las economías de escala
	Son empresas generadoras de empleo ya que utilizan proporcionalmente mucha mano de obra.
	Cuenta con pocos departamentos especializados

(2 puntos)



PRUEBA ACCESO A CICLOS FORMATIVOS DE GRADO SUPERIOR

OPCIÓN A ECONOMÍA

DATOS DEL ASPIRANTE		CALIFICACIÓN PRUEBA
Apellidos:		Nombre:
D.N.I. o Pasaporte:	Fecha de nacimiento: / /	

Instrucciones:

- Lee atentamente las preguntas antes de contestar.
- La puntuación máxima de cada pregunta está indicada en cada enunciado.
- Revisa cuidadosamente la prueba antes de entregarla.
- Podrán utilizarse calculadoras no programables. No se podrá utilizar ningún otro instrumento electrónico.

1.- La actividad económica consiste en la obtención de bienes y servicios a partir de unos factores de producción básicos, denominados genéricamente tierra, trabajo y capital.

A continuación se establecen una serie de afirmaciones acerca de estos factores de producción. Indica aquellas que sean correctas:

- El factor tierra se refiere únicamente a la superficie cultivable o urbanizable.
- El factor trabajo hace referencia a todo esfuerzo humano aplicado a la producción.
- El capital real es el conjunto de dinero o títulos con los que cuenta una empresa para desarrollar sus inversiones.
- A la capacidad para producir que tienen los miembros de una sociedad, se le denomina capital humano y dependerá de la educación, la salud y la capacitación profesional entre otros factores.
- Dentro del factor capital podemos incluir elementos intangibles con los que cuenta la empresa, tales como diseños, patentes o software.
- Las energías renovables no están incluidas en el factor tierra.
- El capital real sufre un desgaste durante el proceso de producción, que se denomina depreciación.
- El factor trabajo se materializa en horas de trabajo, y puede ser tanto físico como mental.

(2 puntos)

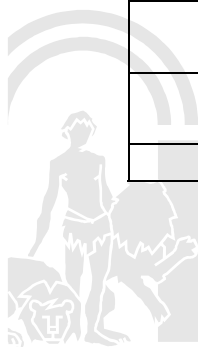
2.- Se entiende por **sistema económico** al conjunto de principios, instituciones y normas por el que se organizan económicamente los individuos de una sociedad para resolver sus problemas económicos.

La forma de resolver los problemas económicos básicos ha determinado a lo largo de la historia la existencia de los distintos sistemas económicos.

Indica en el siguiente listado de características con qué sistema económico se corresponde cada una de ellas:

SISTEMA DE ECONOMÍA DE MERCADO	SISTEMA DE PLANIFICACIÓN CENTRAL	SISTEMA DE ECONOMÍA MIXTA
--------------------------------	----------------------------------	---------------------------

	El Estado se encarga sólo de que se respeten los principios institucionales básicos.
	El Sector público es el principal propietario de los medios de producción
	El Sector público asume la responsabilidad de mantener el pleno



	empleo e impulsar el crecimiento económico
	Las principales deficiencias del sistema son la excesiva burocracia y baja productividad de las empresas.
	El objetivo prioritario es la distribución equitativa de la renta.
	Existe un sistema impositivo que pretende la redistribución de la renta.
	La respuesta a las preguntas económicas básicas las da exclusivamente el mercado.
	Es prácticamente el único sistema económico existente en la actualidad.
	Su justificación desde el punto de vista académico se debe a las teorías de J.M. Keynes.
	Provoca grandes desigualdades sociales.

(2,5 puntos)

3.- Las empresas se pueden clasificar según varios criterios dando lugar a diferentes tipos de empresas. Relaciona con **flechas** cada tipo de empresa de los que aparecen en la columna de la izquierda con la característica más adecuada de la columna de la derecha.

EMPRESA MIXTA	Su plantilla está formada por 3 trabajadores
EMPRESA SECTOR PRIMARIO	Sus propietarios son personas físicas o jurídicas
EMPRESA INDIVIDUAL	Se dedica a la actividad comercial
MICROEMPRESA	Realiza su actividad productiva en distintos países
EMPRESA INTERNACIONAL	Su propietario es una persona jurídica
EMPRESA MULTINACIONAL	Realiza exportaciones a distintos países
GRAN EMPRESA	Su plantilla está formada por 550 trabajadores
EMPRESA PRIVADA	Su actividad consiste en la extracción de minerales
EMPRESA SOCIAL	Su propiedad la comparte el Estado y particulares
EMPRESA SECTOR TERCIARIO	Su propietario es una persona física

(2,5 puntos)



4.- DATAX S.L. se dedica a la fabricación de componentes informáticos. Realiza un contrato con una empresa fabricante de ordenadores para suministrarle la placa base de los mismos, acordando la venta en 2008 de 2.500 unidades a un precio unitario de 150 €

La fabricación de estos componentes supone para la empresa unos costes fijos anuales de 60.000 € y un coste variable unitario de 90 €

(a) Este contrato supondrá a DATAX S.L. la obtención de un beneficio en 2008 de:

- 90.000 €
- 375.000 €
- 100.000 €

(1,5 puntos)

(b) Si DATAX S.L. quisiera obtener un beneficio de 115.000 €, ¿Cuál debería ser el precio unitario de venta acordado para cada placa base?

- 175 €
- 160 €
- 170 €

(1,5 puntos)



PRUEBA ACCESO A CICLOS FORMATIVOS DE GRADO SUPERIOR

OPCIÓN A ECONOMÍA

DATOS DEL ASPIRANTE		CALIFICACIÓN PRUEBA
Apellidos:		Nombre:
D.N.I. o Pasaporte:	Fecha de nacimiento: / /	

Instrucciones:

- **Lee atentamente las preguntas antes de contestar.**
- **La puntuación máxima de cada pregunta está indicada en cada enunciado.**
- **Revisa cuidadosamente la prueba antes de entregarla.**
- **Podrán utilizarse calculadoras no programables. No se podrá utilizar ningún otro instrumento electrónico.**

1.- La producción consiste en obtener bienes y servicio mediante la combinación de factores productivos utilizando una determinada tecnología.


A continuación se establecen una serie de afirmaciones acerca del proceso de producción. Indica cuáles son verdaderas y cuáles son falsas.

- Los factores productivos están compuestos por los recursos naturales, la mano de obra, los bienes de capital, tanto materiales como intangibles y la organización empresarial.
- Una misma función de producción puede representar distintas tecnologías en función de la forma de organización de los factores productivos.
- El proceso de I+D contribuye al desarrollo de nuevas tecnologías.
- Cada función de producción representa una tecnología concreta.
- El rendimiento de un proceso de producción se mide a través de la productividad.
- Una tecnología presenta eficiencia técnica cuando permite obtener la misma cantidad de producto que otra tecnología utilizando una menor cantidad de factores productivos.
- Un mismo producto sólo podrá obtenerse utilizando una determinada tecnología.
- Una tecnología presenta eficiencia económica cuando permite producir con el mínimo coste.
- La productividad total es la relación entre el valor de la producción obtenida y el coste total de los factores productivos utilizados.
- Una tecnología es más eficiente que otra cuando permite obtener la misma cantidad de producto con menor número de trabajadores.

(2,5 puntos)

2.- La empresa puede utilizar diversas técnicas para dar a conocer su producto y aumentar sus ventas. Indica con qué técnica de comunicación relacionarías cada una de las siguientes acciones:

	TÉCNICA DE COMUNICACIÓN
Poner un cartel en una parada de autobús.	
Dar una degustación de un producto en una charcutería.	
Adjuntar al producto un vale descuento.	
Participar en la construcción de una residencia para ancianos.	



Colaborar en la organización de una carrera popular.	
Colocar el producto en cabecera de góndola en un supermercado.	
Ofrecer dos productos al precio de uno.	
Visitar al cliente en su domicilio.	
Dar el 20 % más de producto gratis.	
Repartir folletos en la puerta de un instituto.	

(2,5 puntos)

3.-Dos amigos que acaban de terminar un ciclo superior de estética deciden montar un centro de autobronceado. Realizan una previsión de costes e ingresos y obtienen los siguientes resultados:

- ✓ Los costes fijos mensuales (alquiler, suministros, impuestos...) serán de 900 €
- ✓ El coste de cada sesión de autobronceado (productos, energía, limpieza...) tendrá un coste medio de 5 €
- ✓ El precio medio de las empresas del sector por sesión de autobronceado es de 25 €

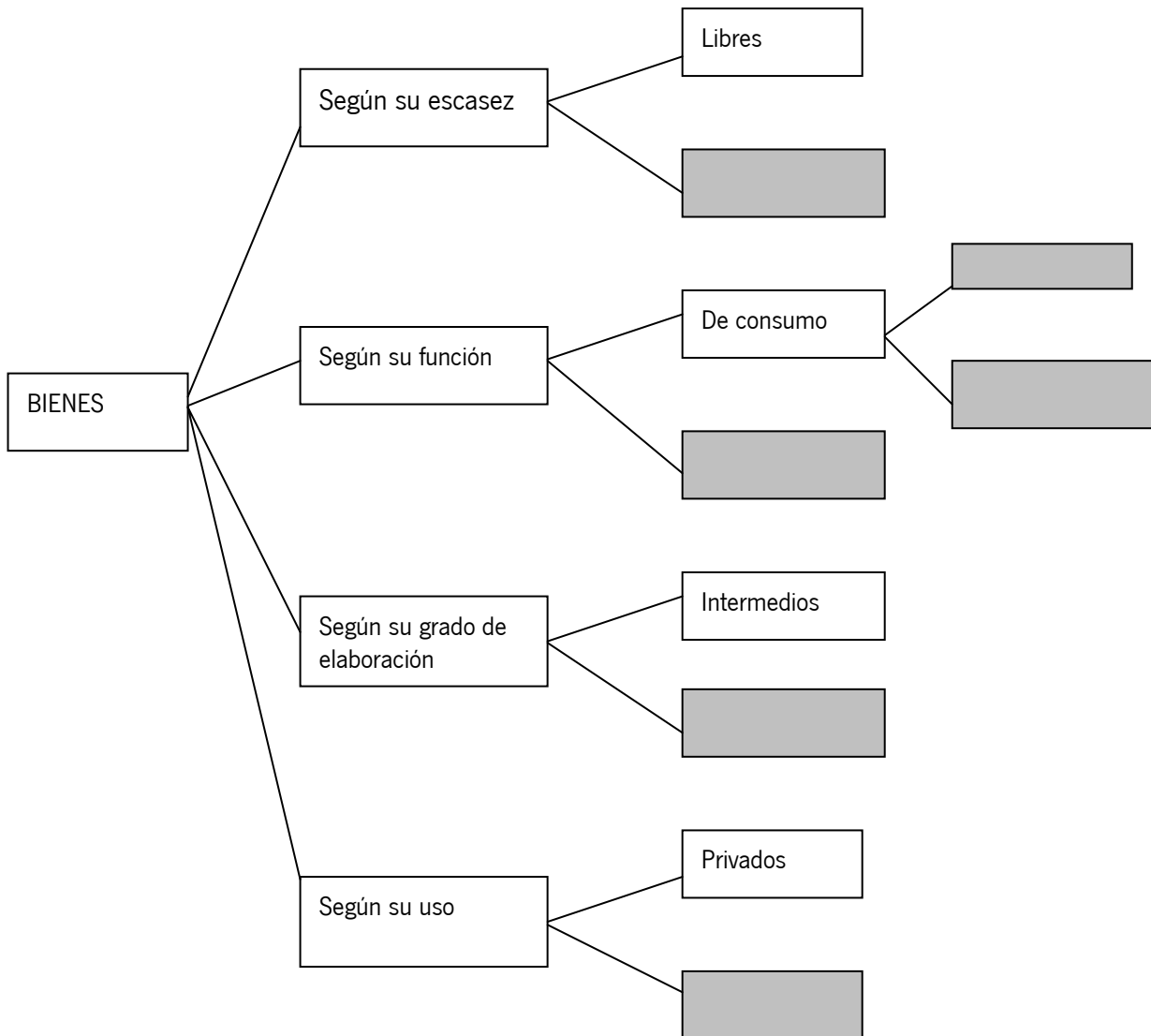
Tras realizar los cálculos necesarios, indica con una "X" en la casilla correspondiente, si las siguientes conclusiones a las que llegan estos jóvenes emprendedores son verdaderas o falsas, y en este caso corrige el error.

	V	F	Resultado correcto
El punto muerto de este proyecto empresarial es de 50 sesiones de autobronceado al mes.			
Para obtener un beneficio mensual de 3.000 € tendrán que realizar 195 sesiones de autobronceado.			
Si realizan al mes 60 sesiones no cubrirán los costes y la empresa tendrá un resultado negativo.			

(3 puntos)



4.- Un bien es todo aquello que satisface directa o indirectamente las necesidades de los seres humanos. Los bienes pueden ser de diversos tipos y pueden clasificarse según distintos criterios. Completa la clasificación de los bienes que se muestra a continuación:



(2 puntos)



PRUEBA ACCESO A CICLOS FORMATIVOS DE GRADO SUPERIOR

OPCIÓN A ECONOMÍA

DATOS DEL ASPIRANTE		CALIFICACIÓN PRUEBA
Apellidos:		Nombre:
D.N.I. o Pasaporte:	Fecha de nacimiento: / /	

Instrucciones:

- Lee atentamente las preguntas antes de contestar.
- La puntuación máxima de cada pregunta está indicada en cada enunciado.
- Revisa cuidadosamente la prueba antes de entregarla.
- Podrán utilizarse calculadoras no programables. No se podrá utilizar ningún otro instrumento electrónico.

1.- (a) Lee atentamente el texto e indica cuáles de las siguientes afirmaciones son verdaderas:

Las ventas de coches bajan un 22%

Noticias Actualidad Económica | Jueves, 24 Enero, 2008 - 10:49

Las matriculaciones de turismos y todoterrenos han bajado un 22% en las tres primeras semanas de enero, periodo en el que se han vendido 47.423 unidades, según datos proporcionados por la Federación de Asociaciones de Concesionarios de Automoción (Faconauto), que achaca la caída de las ventas al efecto del nuevo impuesto de matriculación, también conocido como ecológico, y a la supresión del Plan Prever, unido a la incertidumbre económica provocada por la subida de los tipos de interés y el fuerte endeudamiento familiar.

En la caída de las ventas en lo que va de mes también ha influido, además de la tradicional "cuesta de enero" postvacacional, el hecho de que muchos automovilistas adelantaran la compra de su vehículo a diciembre con el fin de eludir la subida del impuesto o acogerse en su último mes de vigencia a las ayudas del Plan Prever.

El impuesto ecológico, que penaliza a los vehículos más contaminantes, ha provocado, por primera vez en los últimos cuatro años, la caída de las ventas de vehículos todoterreno, que han descendido un 26,6% en las tres primeras semanas de enero, superando incluso la caída del 21,4% acumulada por los turismos.

En concreto, las ventas de 4x4 con un nivel de emisiones superior a los 200 gramos de CO2 por kilómetro han bajado un 57,3%, mientras que las de turismos más contaminantes, gravados con un tipo impositivo del 14,75%, presentan una caída del 56,6%.


- El Plan Prever ha entrado en vigor el 31 de Diciembre de 2007
- El nuevo impuesto de matriculación será más elevado para vehículos con mayores emisiones de CO2 por kilómetro.
- Las ventas de los vehículos 4x4 más contaminantes han descendido en un 56,6 % en el mes de Enero.
- El impuesto ecológico ha entrado en vigor el 1 de Enero de 2008.
- La subida de los tipos de interés es uno de los factores a los que se achaca el descenso de la venta de vehículos
- La caída de las ventas de todoterrenos se ha situado 5,2 puntos por debajo de la de los turismos.

(1,5 puntos)

2.- Se llama globalización al proceso de extensión de las relaciones económicas a nivel mundial, estableciéndose una gran interdependencia entre todos los países. Unido a este proceso surge un tipo de empresa de gran dimensión: las multinacionales.

Señala con una "X" en la casilla correspondiente aquellas características que hagan referencia a las multinacionales:

Tienen una gran resistencia ante las crisis del mercado gracias a la compensación de resultados	<input type="checkbox"/>
---	--------------------------



en los distintos países.	
Se instalan en distintos países según las necesidades económicas que éstos presenten.	
Está formada por una empresa matriz, y varias filiales repartidas por todo el mundo.	
Utilizan tecnología punta, por lo cual cuentan con una alta productividad	
Surgen de un proceso de ampliación de mercados por parte de las grandes empresas.	
Se extienden por diversos países en función de factores como costes laborales, ventajas fiscales, ayudas de los gobiernos,....	
Suelen servir de apoyo a las pequeñas empresas de su entorno.	
Están muy expuestas a las crisis económicas debido a su presencia en distintos mercados.	
La empresa matriz traslada su sede a aquellos países en los que los costes laborales son más bajos.	
Tienen una gran capacidad productiva.	

(2,5 puntos)

3.- La empresa DELTA S.L. dedicada a la fabricación de enchufes ha sufrido, durante el año 2007, profundas transformaciones en la organización del trabajo. Se han introducido cambios en la forma de repartir las tareas y responsabilidades, así como el sistema de remuneración de los trabajadores.

La dirección de la empresa quiere conocer los efectos que estos factores han tenido sobre la productividad de la mano de obra; para ello cuenta con los siguientes datos:

	PRODUCCIÓN	PLANTILLA	Nº HORAS AÑO	PRODUCTIVIDAD
AÑO 2006	980.000 enchufes	5 trabajadores a jornada completa	1.840	
AÑO 2007	1.460.000 enchufes	6 trabajadores a jornada completa	1.840	

Calcula la productividad del trabajo en el año 2006 y 2007 e indica el porcentaje de variación que ha experimentado como consecuencia de los cambios introducidos en la empresa: %.

(3 puntos)

4.-La empresa Alfa S.A. presenta a 31 de diciembre de 2007 los siguientes elementos patrimoniales:



ELEMENTO PATRIMONIAL	VALOR	ACTIVO	PASIVO
Construcciones	300.000 €		
Reserva legal	50.000 €		
Caja	2.000 €		
Acreedores	57.000 €		
Propiedad industrial	100.000 €		
Proveedores	130.000 €		
Mercaderías	30.000 €		
Clientes	50.000 €		
Deudas l/p entidades crédito	150.000 €		
Inversiones financieras temporales	8.000 €		
Deudores	4.000 €		
Valores de renta fija a l/p	50.000 €		
Mobiliario	80.000 €		
Proveedores, efectos comerciales a pagar	30.000 €		
Bancos,c/c	3.000 €		
Clientes, efectos comerciales a cobrar	10.000 €		
Proveedores de inmovilizado a c/p	20.000 €		
Capital social			
TOTAL			

- (1) Marca con una X la casilla correspondiente, según se trate de un elemento patrimonial perteneciente al activo o al pasivo de la empresa.
- (2) Calcula el valor del capital social de esta empresa

(3 puntos)



PRUEBA ACCESO A CICLOS FORMATIVOS DE GRADO SUPERIOR

OPCIÓN A ECONOMÍA

DATOS DEL ASPIRANTE		CALIFICACIÓN PRUEBA
Apellidos:		Nombre:
D.N.I. o Pasaporte:	Fecha de nacimiento: / /	

Instrucciones:

- **Lee atentamente el texto y las preguntas antes de contestar.**
- **La puntuación máxima de cada pregunta está indicada en cada enunciado.**
- **Revisa cuidadosamente la prueba antes de entregarla.**

1.- La más difundida definición de economía es la de Lionel Robbins, quién dijo que “la economía es la ciencia que estudia la conducta humana como una relación entre fines y medios escasos que tienen usos alternativos”. (Robbins 1932).

Existen múltiples definiciones de economía, casi tantas como economistas, y todas ellas giran en torno a una serie de afirmaciones.

Indica cuáles de las siguientes afirmaciones son verdaderas y cuáles son falsas:

- Las actividades económicas se clasifican en actividades de consumo, producción y distribución.
- Las necesidades económicas son escasas.
- Los factores de producción básicos son tierra, trabajo y capital.
- Los bienes y servicios se obtienen con recursos libres que se encuentran en la naturaleza.
- La escasez es un término relativo.
- Los recursos económicos son ilimitados.
- Las necesidad de elegir el uso de los recursos da lugar al coste de oportunidad
- La finalidad de la ciencia económica es satisfacer todo tipo de necesidades.
- Se denominan necesidades económicas a aquellas que se satisfacen con los mínimos recursos.
- La economía es una ciencia social.
- La escasez es el principal problema al que se enfrenta la economía.
- Las necesidades humanas pueden ser primarias o secundarias.
- La Microeconomía se encarga del funcionamiento global de la economía.

(1,5 puntos)

2.- (a) Los seres humanos satisfacen sus necesidades mediante la utilización de bienes y servicios.

Los bienes se clasifican atendiendo a diversos criterios tales como su escasez, su función, su grado de elaboración, su relación o su uso. En la siguiente tabla se muestran una serie de descripciones que deberás relacionar con el tipo de bien al que corresponde: (1,5 punto)



1.-	BIENES FINALES
2.-	BIENES LIBRES
3.-	BIENES SUSTITUTIVOS
4.-	BIENES PÚBLICOS
5.-	BIENES INTERMEDIOS
6.-	BIENES DE CONSUMO
7.-	BIENES DE CAPITAL

	Bienes abundantes que no son propiedad de nadie.
	Bienes que sirven para obtener otros bienes.
	Bienes que se incorporarán a un proceso productivo
	Bienes de consumo no rival
	Bienes que satisfacen la misma necesidad
	Bienes que directamente satisfacen una necesidad
	Bienes que son aptos para el consumo

(b) A continuación se muestra un listado de bienes; tu labor consiste en clasificarlos en su tipología correspondiente. Ten en cuenta que un bien puede pertenecer a varias tipologías:(1,5 punto)

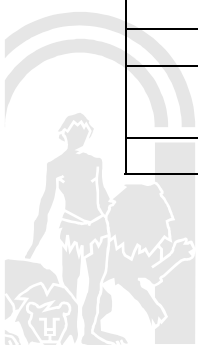
			Un semáforo			Un saco de cemento
			Una botella de agua mineral			Una máquina envasadora
			Unas gafas			Una novela de misterio
			Una tablero de madera			Un litro de leche
			Unas lentillas			Una ola
			Una farola de un parque			Una lata de pintura

3.-La legislación vigente en España permite la creación de empresas bajo diferentes formas jurídicas. Cada empresario elegirá la forma jurídica que mejor se adapte a sus necesidades e intereses; para ello deberá conocer la regulación específica de cada una de ellas que establece sus requisitos, características, funcionamiento....

Indica en el siguiente listado de características con qué forma jurídica de la empresa de las citadas a continuación se corresponde:

SOCIEDAD DE RESPONSABILIDAD LIMITADA	SOCIEDAD ANÓNIMA	SOCIEDAD COOPERATIVA	EMPRESARIO INDIVIDUAL
--------------------------------------	------------------	----------------------	-----------------------

FORMA JURÍDICA	CARACTERÍSTICA DE LA EMPRESA
	El capital mínimo para constituirse es de 3.005,06 €
	Todos los socios tienen derecho a voto en la Junta General según su participación en la sociedad
	Es posible su constitución por vía telemática en determinados PAIT (Puntos de Asesoramiento e Inicio de Tramitación)
	El Comité Rector es su órgano de gestión
	En ocasiones los socios acuden al voto sindicado
	El capital deberá estar desembolsado en su totalidad en el momento de la constitución de la sociedad
	Los socios pueden abandonar la sociedad y recuperar su parte del capital.



	Una de las formas de constituirse es la fundación sucesiva.
	La sociedad exigirá a los socios los dividendos pasivos
	Los socios podrán acordar el reparto de dividendos
	La responsabilidad del empresario es ilimitada y personal
	Tributará por el I.R.P.F.
	La inscripción en el Registro Mercantil es voluntaria

(2,5 puntos)

4.- (a) Lee atentamente el texto e indica cuáles de las siguientes afirmaciones son verdaderas: (1,5 puntos)

España, a la cola de la UE en aumento de la productividad

22.11.07 -
EUROPA PRESS

La Comisión Europea volvió a alertar ayer de que España está a la cola de la UE en aumento de productividad, y sólo registra mejores resultados que Italia y Portugal. Así, en 2006, la productividad mejoró un 0,7% respecto al año anterior, menos de la mitad que la media comunitaria (1,5%). Cifra muy lejana de los resultados en otros grandes Estados miembros como Polonia (2,8%) Alemania (2,7%), el Reino Unido (2%) o incluso Francia (1,2%).

Lo más preocupante es que el Ejecutivo comunitario no prevé una mejora sustancial en los próximos años, sino que considera que la productividad en España crecerá un 0,8% en 2007 y 2008 y sólo un 0,6% en 2009, según se recoge en el informe de balance de la economía de la UE en 2007. Si se confirma esta cifra, la economía española se vería incluso superada por Italia y Portugal. Por sectores, en España sólo mejoró de manera importante en la industria (2,6%), incremento que se vio contrarrestado por la caída en la construcción (-2,2%), y en el sector empresarial en general (-0,1%). El Ejecutivo cree que una de las causas de la baja productividad es la fuerte inmigración, que ha permitido la expansión de industrias intensivas en manos de obra, así como el escaso uso de las tecnologías.

- La productividad en España ha disminuido en el año 2006 situándose por encima sólo de Italia y Portugal.
- El país de la UE que más incrementó su productividad en el 2006 ha sido Polonia.
- La productividad de la industria en España ha descendido en 2006.
- En Portugal la productividad en el 2006 experimentó un incremento por debajo de la media europea.
- La baja productividad de la industria española es debida al uso intensivo de las tecnologías.
- Se prevé que la productividad en España siga cayendo en los próximos años.

b) La empresa FERRAL S.A. dedicada a la fabricación de componentes eléctricos presenta los siguientes datos: (1,5 punto)

Cantidades empleadas de factor trabajo (jornada laboral 1920 h /año)	
Año 2005	Año 2006
20 trabajadores jornada completa	22 trabajadores jornada completa
Cantidades producto A	
Año 2005	Año 2006
100.000 unidades	118.000 unidades

Calcula la variación que ha experimentado la productividad del factor trabajo en el año 2006 en esta empresa española e indica si sigue la tendencia general de la empresa española para este año según la información facilitada en el artículo anterior por la Comisión Europea.

