

PRUEBA ACCESO A CICLOS FORMATIVOS DE GRADO MEDIO Septiembre 2018
ÁMBITO SOCIAL

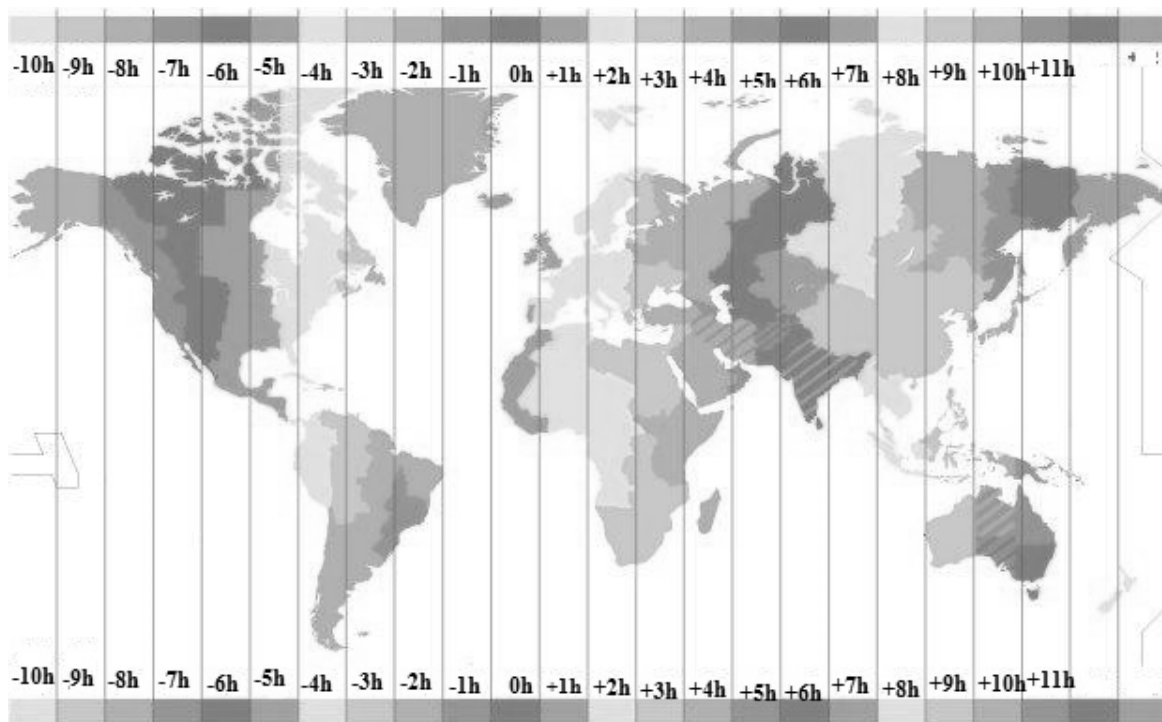
DATOS DEL ASPIRANTE		CALIFICACIÓN PRUEBA
Apellidos:		Nombre:
DNI o Pasaporte:	Fecha de nacimiento: / /	

Instrucciones:

- **Lee atentamente las preguntas antes de contestar.**
- **La puntuación máxima de cada pregunta está indicada en su enunciado.**
- **Revisa cuidadosamente la prueba antes de entregarla.**
- **Realiza todos los ejercicios.**

A. GEOGRAFÍA. (2 puntos)

1. Observa el siguiente *mapamundi* con los husos horarios y responde a las preguntas que figuran a continuación: Recuerda que la hora 0 pasa por Greenwich (Gran Bretaña).
(1 punto; 0,2 por apartado)



- A.** ¿Qué significado tienen las franjas verticales y los números que aparecen por cada franja?
Cada franja representa una franja de tiempo equivalente a una hora. Los números son las horas que se suman o restan a la hora del meridiano de Greenwich.
- B.** ¿Cuántas horas de diferencia tenemos en la Península en relación a la hora del meridiano de Greenwich? ¿Y en Canarias?
En la península sumamos una hora con respecto al Meridiano de Greenwich. Sin embargo, en Canarias tienen el mismo huso horario.
- C.** Observa el mapa y señala al menos tres países cuyo reloj esté atrasado con respecto a la Península Ibérica en 7 horas y 6 con respecto al archipiélago canario.
Canadá, Estados Unidos, México, Guatemala, Honduras, Nicaragua y Costa Rica.



D. Cuando en Madrid son las tres de la tarde (15 horas), ¿qué hora será en Portugal? ¿Y en Méjico?

Portugal: 14 horas (dos de la tarde)

Méjico: 7 horas (ocho de la mañana)

E. Marca dos países que pertenezcan a la misma franja horaria que la Península Ibérica:

Francia

China

Marruecos

Egipto

2. Define brevemente los siguientes conceptos:

(1 punto; 0,2 por apartado)

- Latitud: Distancia de un punto en la Tierra respecto al ecuador.
- Meridiano: Línea imaginaria que va del Polo norte al Polo sur.
- Septentrional: Norte
- Hemisferio: Cada mitad del globo terráqueo.
- Cartografía: Ciencia que se ocupa de la elaboración de mapas.

B. HISTORIA. (2 puntos)

3. El siguiente mapa muestra la división política de península en 1151. Obsérvalo y responde a las siguientes preguntas:

(2 puntos; 0,2 los apartados A, B, C, D y E y 0,5 los apartados F y G)

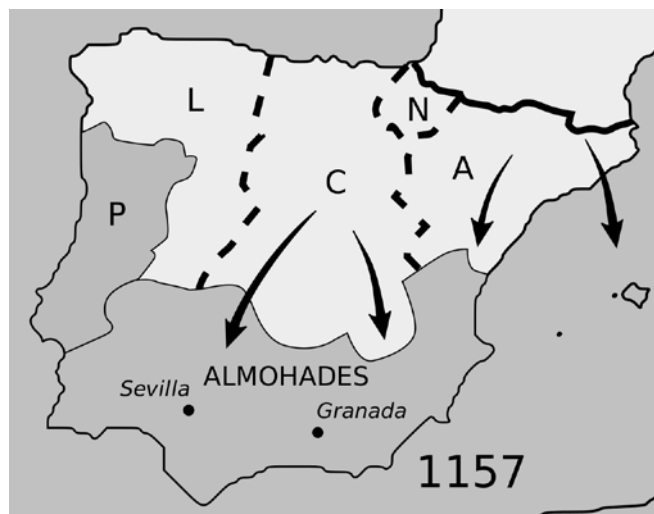


Imagen de Wikipedia bajo licencia CC

A. ¿A qué siglo y a qué edad histórica corresponde el mapa?

Siglo XII - Edad Media.

B. ¿A qué reinos o territorios se hace alusión con las letras iniciales mayúsculas P, L, C, N, A?

Portugal, León, Castilla, Navarra y Aragón.

C. ¿Qué significan las flechas dibujadas en el mapa?

El avance de la Reconquista.

D. Indica qué comunidades autónomas actuales se incluyen en el territorio marcado con la letra A.

Aragón y Cataluña.



E. Señala al menos cinco provincias actuales que se correspondan con el territorio marcado con la letra L.
La Coruña, Lugo, Pontevedra, Orense, Asturias, León, Zamora y Salamanca.

F. Define los siguientes términos:

- Reinos de Taifas: pequeños estados independientes que surgieron tras la desintegración del califato de Córdoba a partir del siglo XI.
- Mozárabe: cristiano que vivía en territorio musulmán.

G. El mapa hace referencia a la situación de la Reconquista en el año 1157. Describe en qué consistió este proceso, cuánto tiempo duró y quiénes fueron los protagonistas.



La Reconquista fue un período de la historia de España que se inició en el año 711 (siglo VIII) tras la invasión musulmana de la Península. Los reinos cristianos al norte de la península (principalmente el reino de Castilla y el reino de Aragón) iniciaron un proceso de recuperación y avance territorial que no concluyó hasta 1492 con la toma de Granada por los Reyes Católicos en el siglo XV.

C. PERCEPCIÓN ARTÍSTICA. (2 puntos)

4. Las siguientes fotografías muestran distintos ejemplos de la historia de la arquitectura. Relaciona cada imagen con un estilo y una característica distintiva que lo define:
(2 puntos; 0,5 por imagen)



Estilos: gótico / griego / musulmán / románico.

Características: arco apuntado / arco de herradura / arco de medio punto / capiteles dóricos.

Fotografía	Estilo artístico	Elementos arquitectónicos destacado
	Arte románico	Arco de medio punto
	Arte gótico	Arco apuntado

Imágenes de PxHere, Pixabay y Wikipedia bajo licencia CC



Fotografía	Estilo artístico	Elementos arquitectónicos destacado
	<p>Arte musulmán</p>	<p>Arco de herradura</p>
	<p>Arte griego</p>	<p>Capiteles dóricos</p>

Imágenes de PxHere, Pixabay y Wikipedia bajo licencia CC

D. ECONOMÍA. (2 puntos)

5. Indica si las siguientes afirmaciones son verdaderas (V) o falsas (F). Corrige las falsas:
(1 punto; 0,2 cada apartado)

[V] Las amas de casa no se consideran población activa.

.....

[F] La ganadería pertenece al sector terciario.

Falso, pertenece al sector primario.

[V] La construcción se incluye en el sector secundario.

.....

[V] La recolección o extracción de los recursos naturales es del sector primario.

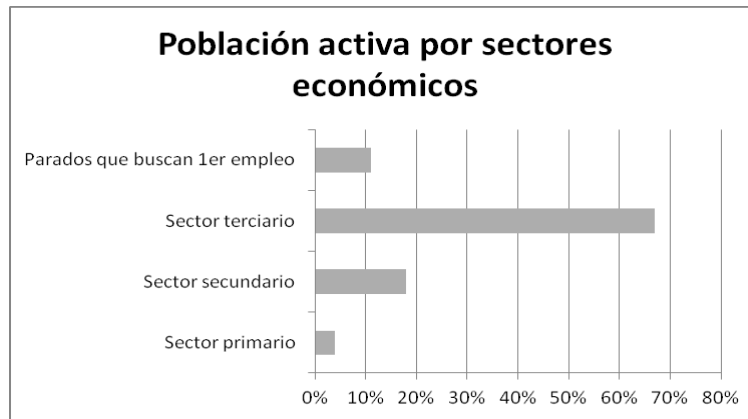
.....

[F] Un actor de cine pertenece al sector secundario.

Falso, pertenece al sector terciario.

6. Observa el siguiente gráfico sobre la distribución de la población activa en España en el año 2016 y responde a las siguientes preguntas:
(1 punto; 0,2 cada apartado)





Gráfica de elaboración propia a partir de datos del INE, 2016

- A.** ¿Qué es la población activa?
Población en edad de trabajar y en condiciones para hacerlo.
- B.** ¿En qué sector incluirías la actividad pesquera? Señala las diferencias entre la pesca de altura y de bajura.
La pesca es una actividad del sector primario. La diferencia entre estos dos tipos está en la localización de las capturas. Mientras que la pesca de bajura tiene lugar en las proximidades de la costa la de altura se lleva a cabo en distancias medias o largas con respecto a la plataforma continental.
- C.** Indica tres actividades propias del sector terciario.
Comercio, turismo, transportes y comunicaciones, servicios públicos...
- D.** ¿Qué diferencia hay entre industrias básicas y pesadas e industria de uso y consumo? Indica algunos ejemplos.
La industria básica tiene como fin la elaboración de productos semielaborados para su uso en otras industrias, como la siderúrgica y la química básica. La finalidad de la industria de uso y consumo es; sin embargo, la utilización directa por parte de la población, como puede ser la alimentaria o la de confección.
- E.** Diferencia entre comercio mayorista y minorista.
El comercio minorista pone a disposición de los consumidores los bienes y servicios que adquieren de sus proveedores que son los que realizan el comercio mayorista.

E. INICIACIÓN A LA ACTIVIDAD ECONÓMICA Y EMPRESARIAL. (2 puntos)

- 7.** Has terminado tus estudios y debes plantearte una estrategia de búsqueda de empleo. Para ello, debes elaborar un guion o decálogo en el que resumas los pasos más importantes que debes tener en cuenta para conseguir el empleo adecuado a tu itinerario formativo y a las características del mercado laboral (trabajo por cuenta ajena en sector público o privado, autoempleo, etc.) Emplea una extensión aproximada de 200 palabras.

Respuesta libre

