

**PRUEBA ACCESO A CICLOS FORMATIVOS DE GRADO MEDIO** Junio 2018  
ÁMBITO SOCIAL

DATOS DEL ASPIRANTE		CALIFICACIÓN PRUEBA
Apellidos:		Nombre:
DNI o Pasaporte:	Fecha de nacimiento: / /	

**Instrucciones:**

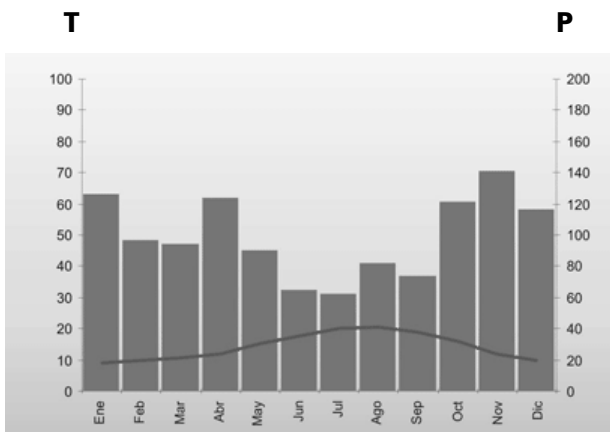
- **Lee atentamente las preguntas antes de contestar.**
- **La puntuación máxima de cada pregunta está indicada en su enunciado.**
- **Revisa cuidadosamente la prueba antes de entregarla.**
- **Realiza todos los ejercicios.**

**A. GEOGRAFÍA.** (2 puntos)

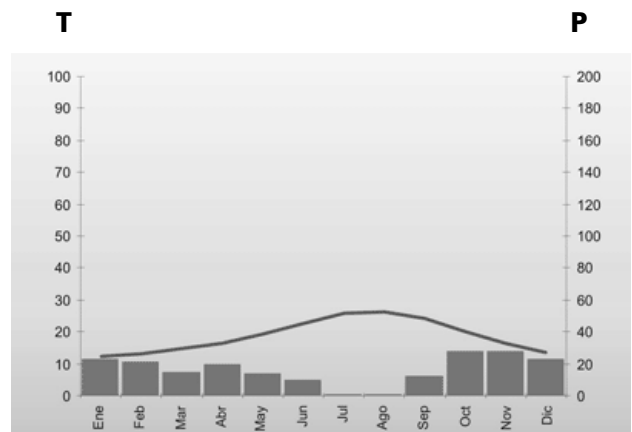
1. Responde a las preguntas siguientes sobre los climas de España:  
(2 puntos, 1 por apartado)

**A.** Las siguientes gráficas representan dos modelos de climas de España. Obsérvalas y señala si son verdaderas (V) o falsas (F) las afirmaciones que figuran a continuación. Justifica las respuestas falsas:

**CLIMOGRAMA A**



**CLIMOGRAMA B**



Contenidos CREA Junta de Andalucía

[ ] En las gráficas, la temperatura mensual viene representada con barras. **Falso.**

*Viene marcada por una línea curva.*

[ ] El climograma A se corresponde con un clima oceánico. **Verdadero.**

[ ] Hay más meses de aridez en el climograma A que en el B. **Falso.**

*En el climograma B no aparecen precipitaciones ni en julio ni en agosto.*

[ ] En los meses de invierno el climograma B muestra abundantes lluvias. **Falso,**

*Las precipitaciones durante el invierno son muy escasas.*

[ ] Por las temperaturas de los climogramas deducimos que ambos climas son costeros. **Verdadero.**

.....



**B.** Relaciona los siguientes paisajes vegetales con el clima al que correspondan:

Bosque de coníferas / Bosque mediterráneo / Desierto tropical / Sabana / Tundra

- Clima cálido: [sabana, desierto tropical](#).
- Clima templado: [bosque mediterráneo](#).
- Clima de montaña: [bosque de coníferas](#).
- Clima polar: [tundra](#).

## B. HISTORIA. (2 puntos)

**2.** Lee el siguiente texto sobre el origen y expansión del islam y responde a las preguntas que figuran a continuación: (1 punto; 0,2 por apartado)

*El islam se inició con la predicación de Mahoma en el año 622 en La Meca (en la actual Arabia Saudita). Bajo el liderazgo de Mahoma y sus sucesores, el islam se extendió rápidamente. Existe discrepancia entre los musulmanes y no musulmanes si se extendió por imposición religiosa o militar, o por conversión de los pueblos al islam.*

*Durante sus primeras décadas, el islam se extendió rápidamente hacia el noreste hasta Iraq, Irán, la alta Mesopotamia; y al oeste hasta Asiria, Palestina y Egipto (las provincias más ricas del Imperio Bizantino).*

*El islam penetró en el mundo cristiano y greco-romano poco después de la muerte de Mahoma. Durante el reinado de los Omeyas, la expansión continúa, las conquistas se hacen por vía terrestre hasta el Magreb a fines del siglo VII, y llegan a costas españolas comenzando el siglo VIII. En 712 superan el estrecho de Gibraltar y logran llegar a España. Son detenidos en Poitiers en 732.*

*Luego se expandirán hacia Asia central, Bujara, Kabul, y alcanzarán la frontera de la India. Limitarán con el Imperio Bizantino, el mar Caspio y el Cáucaso al norte.*

Texto adaptado de Pablo Rodrigo Rosales, *El Evangelio de Salvación*, 2012.

**A.** La conquista de la Península ibérica por el islam tuvo lugar durante la dinastía árabe de los:

- Abasies
- Omeyas.
- Almohade

**B.** La expansión del islam:

- Fue lenta y abarcó escasos territorios.
- Fue rápida y llegó hasta América.
- Fue rápida y abarcó extensos territorios.

**C.** En sus comienzos, el islam se expandió hacia:

- India
- España
- Irán

**D.** ¿En qué ciudad comenzó Mahoma su predicación?

- Irak
- La Meca
- Gibraltar

**E.** Los musulmanes, tras entrar en España, fueron detenidos por Carlomagno en:

- Poitiers
- Kabul
- Constantinopla



**3.** Responde brevemente a las cuestiones sobre el islam:  
(1 punto; 0,2 por apartado)



- A.** ¿Qué tipo de religión era el islam: monoteísta o politeísta?  
Era monoteísta, Alá es su Dios.
- B.** ¿Qué es la “Hégira”?  
La huida de Mahoma de La Meca a Medina, fecha muy importante para los musulmanes.
- C.** ¿Qué año llegaron los árabes a la Península ibérica? ¿Por dónde penetraron?  
En el año 712. Llegaron a las costas españolas provenientes del Magreb.
- D.** ¿Qué significa la palabra “islam”?  
El término árabe “islam” significa `sumisión, rendición absoluta a Alá`.
- E.** ¿Cuál es el libro sagrado de los musulmanes?  
El Corán.

**C. PERCEPCIÓN ARTÍSTICA.** (2 puntos)



**4.** Fíjate en estas cinco esculturas y relaciónalas con un estilo artístico y con un periodo histórico determinado:  
(2 puntos; 0,4 por imagen)

Estilos artísticos: Arte griego / Arte rupestre / Impresionismo / Renacimiento / Románico.

Periodos históricos: Edad Antigua / Edad Contemporánea / Edad Media / Edad Moderna / Prehistoria.

<b>Fotografía</b>	<b>Estilo artístico</b>	<b>Período o edad histórica</b>
	<p>Románico</p>	<p>Edad Media</p>
	<p>Renacimiento</p>	<p>Edad Moderna</p>



	<p>Arte rupestre</p>	<p>Prehistoria</p>
	<p>Arte griego</p>	<p>Edad Antigua</p>
	<p>Impresionismo</p>	<p>Edad Contemporánea</p>

Imágenes de Wikipedia bajo licencia CC

**D. ECONOMÍA.** (2 puntos)

5. Asocia las siguientes definiciones con la palabra correcta:  
(2 puntos; 0,2 por apartado)

Capital / Empresas / Euríbor / Inflación / Interés / Liquidez / Microeconomía / Producto interior bruto / Reservas bancarias / Tipo de interés

**A.** Remuneración que se recibe por prestar el dinero, medida como un tanto por ciento por un período determinado.

Tipo de interés.

**B.** Parte de los depósitos que un banco mantiene inactivos para hacer frente a las retiradas de dinero por parte de sus clientes.

Reservas bancarias.

**C.** Valor de los bienes y servicios finales (o sea, los que no se han empleado para producir otros) producidos en un país a lo largo de un determinado período de tiempo (normalmente un año).

Producto interior bruto.



**D.** Tipo de interés medio al que los principales bancos de la zona euro están dispuestos a prestarse dinero en cada momento.

Euribor.

**E.** Conjunto de bienes que se emplea para producir otros bienes o servicios.

Capital

**F.** Agentes económicos que se encargan de producir y distribuir los bienes y servicios haciendo uso de los factores productivos.

Empresas.

**G.** Disposición de dinero en efectivo suficiente que tienen los bancos para hacer frente a sus obligaciones a corto plazo.

Liquidez

**H.** Precio que cobran por el préstamo de dinero los bancos.

Interés

**I.** Estudia los fenómenos económicos partiendo del análisis del comportamiento individual de los agentes económicos.

Microeconomía

**J.** Aumento generalizado de los precios que se mantiene durante un período de tiempo.

Inflación

## **E. INICIACIÓN A LA ACTIVIDAD ECONÓMICA Y EMPRESARIAL.** (2 puntos)

**6.** Acabas de ver un anuncio de un puesto de trabajo que te ha resultado atractivo. En él te piden que presentes un *curriculum vitae* indicando tu perfil personal y académico, así como tu experiencia laboral. Realiza dicho *curriculum* con datos inventados, empleando una extensión aproximada de 200 palabras.

Respuesta libre.

